

Pracovní list č. 5

Jméno

1. Zapiš pomocí zlomku

čtyři pětiny

pět osmin


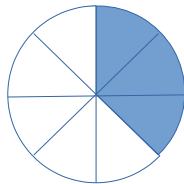
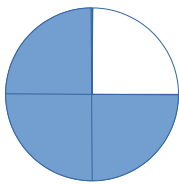
jednu polovinu

tři sedminy


jednu dvanáctinu

tři desetiny

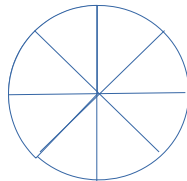
2. Jaká část je vybarvená? Zapiš zlomkem.



3. Vybarvi



$\frac{1}{2}$



$\frac{5}{8}$



$\frac{5}{6}$

4. Ve výprodeji bylo zboží zlevněno o jednu čtvrtinu. Vypočítej novou cenu zboží.

	stará cena	sleva ze staré ceny	nová cena
zahradní bazén	8 000		
sekačka	1 600		
motorová pila	6 400		

5. Vypočítej z paměti

$209 \times 100 =$

$1\,540 \times 100 =$

$54 \times 1\,000 =$

$5\,600 : 800 =$

$27\,000 : 300 =$

$240\,000 : 3\,000 =$